

Matematik 1 . Dönem Genel Değerlendirme Soruları-2



****** Yandaki madeni paralar hangi seçenekteki kağıt para değerindedir?



48 kilogram geliyorum.

İrem

Ben 41 kilogramım.



Anıl



Benim ağırlığım 45 kilogram.

Tarık

****** Yandaki öğrenciler ağırdan hafife doğru nasıl sıralanmalıdır?

A) İrem - Tarık - Anıl

B) İrem - Anıl - Tarık

C) Tarık - Anıl - İrem

$$\begin{array}{r} 27 \\ 18 \\ + \dots \\ \hline 72 \end{array}$$

Yandaki toplama işleminde verilmeyen sayı kaçtır?

A) 27

B) 37

C) 45

| | | |
|----|----|----|
| + | 12 | 32 |
| | A | |
| 20 | | B |

****** Yanda verilen toplama tablosuna göre A + B toplamı kaçtır?

A) 38

B) 52

C) 90

****** Bir ahırdaki kuzuların sayısı tavuklardan 20 fazla.

civcivlerin sayısı da kuzulardan 10 fazladır.

Bu ahırda toplam kaç hayvan vardır?



A) 30

B) 80

C) 40



10



Ömer
12

Orçun

Caner

****** Orçun, Ömer'den 11 yaş. Caner Orçun'dan 4 yaş büyüktür. Buna göre üçünün yaşları toplamı kaçtır?

A) 60

B) 61

C) 62

****** Aşağıdaki işlemlerden hangisinin tahmini sonucu 70'tir?

A) 38 + 36

B) 20 + 55

C) 42 + 35



****** Annem yandaki faturaları yatırabilmek için yanına kaç TL para almalıdır?

A) 90

B) 80

C) 70

$$\begin{array}{r} 42 \\ + 19 \\ \hline 84 \end{array}$$

****** Yandaki toplama işleminde verilmeyen toplanan kaçtır?

A) 23

B) 25

C) 28


$$42 + ? = 74$$

****** Yandaki boşluğa hangi yapboz parçası gelmelidir?

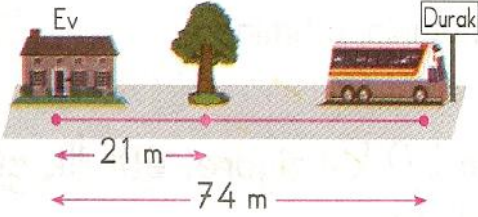
A)



B)



C)



******Yanda verilen mesafelere göre ağaç ile durak arası kaç metredir?

A) 54

B) 53

C) 52

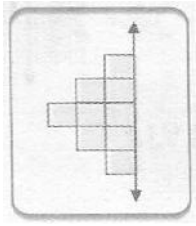


******Yandaki çikolatadan 17 tane Aslı, 18 tane de Canan yedi. Buna göre kutuda kaç tane çikolata kalmıştır?

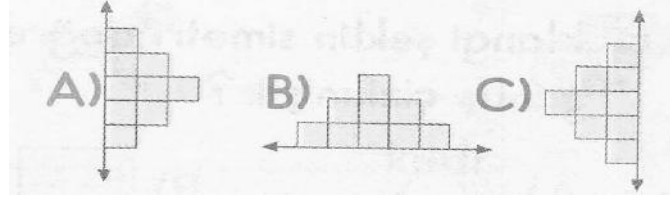
A) 7

B) 6

C) 5

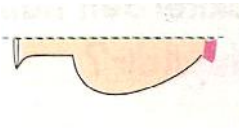


******Yandaki şeklin simetriği aşağıdakilerden hangisidir?



****** Aşağıdakilerden hangisi yandaki şeklin simetrisidir?

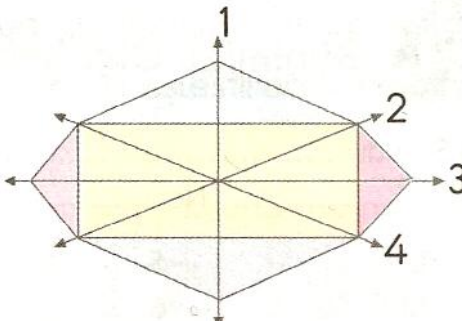
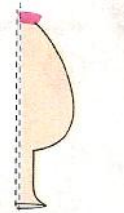
A)



B)



C)

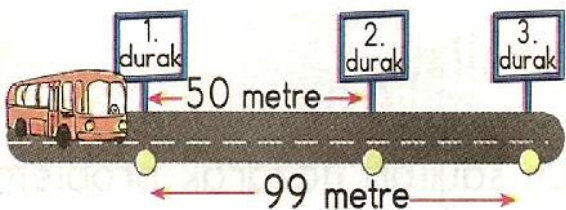


****** Kaç numaralı doğrular, yandaki şekli simetrik olarak iki eş parçaya böler?

A) 1 ve 2

B) 2 ve 4

C) 1 ve 3



****** Yandaki otobüs, 2. durak ile 3. durak arasında kaç m yol gidecektir?

A) 48

B) 47

C) 49

Mustafa ÇALIŞKAN